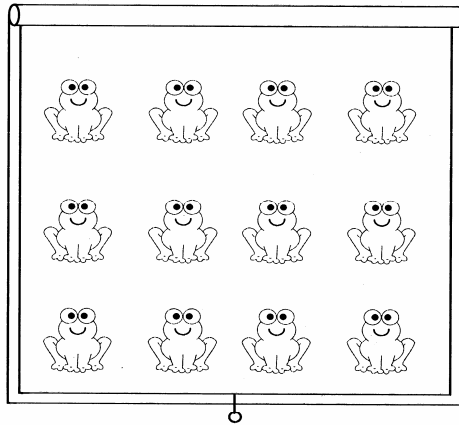



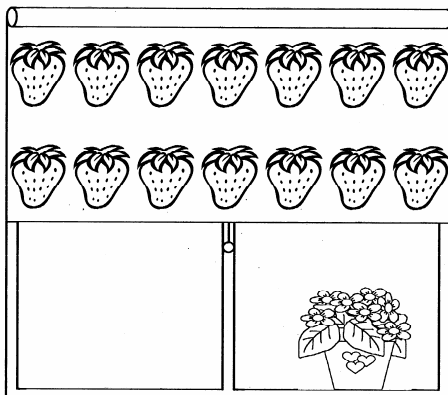
CORTINAS




Quarto do João



Quarto da irmã



Cozinha



Quarto do irmão

O João tem dois irmãos. Na figura temos as cortinas do quarto dele, dos irmãos e da cozinha.

- Quantas rãs estão na cortina do quarto do João? Como contaste?
- A cortina do quarto da irmã do João não está toda corrida, mas és capaz de dizer quantas flores tem a cortina? Como pensaste?
- Os morangos da cortina da cozinha não estão todos à vista, mas consegues descobrir quantos são? Explica como fizeste.
- E como consegues saber quantas joaninhas tem a cortina do irmão do João?

Fonte: ESE de Setúbal