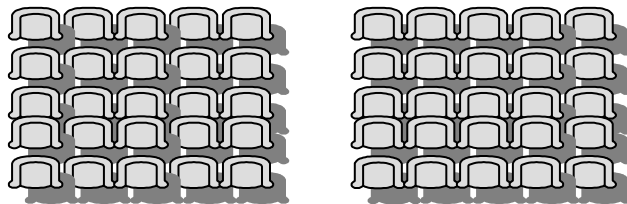


A Sala de espectáculos


Sem contares os lugares um a um, organiza os teus cálculos para determinares:

- quantos lugares há no balcão;
- quantos lugares há na 2ª plateia;
- quantos lugares há na 1ª plateia;
- quantos lugares tem esta sala de espectáculos?


Balcão



2ª plateia



1ª plateia



- Descobre maneiras diferentes de arrumar 100 cadeiras numa sala de espectáculos, respeitando a condição de que cada fila tenha o mesmo número de cadeiras.